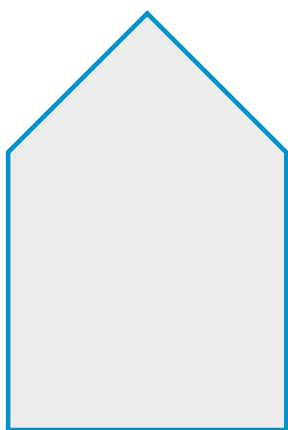
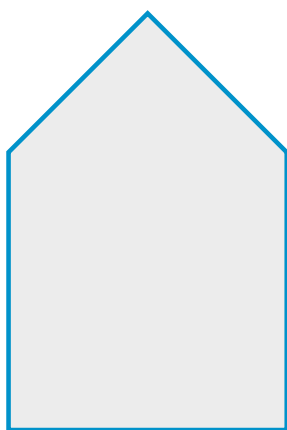


ĆWICZENIE – na dobry początek

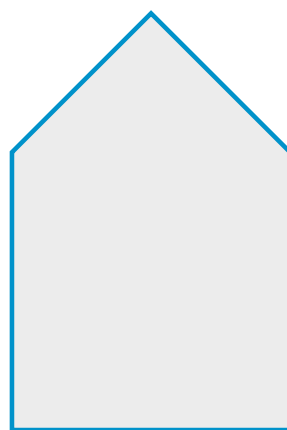
1. Każdą z poniższych figur podziel na odpowiednią liczbę trójkątów prostokątnych.



3 trójkąty



5 trójkątów



6 trójkątów

